

CONSEGNA: Usa lo schema di alfabeto che trovi qui sotto e prova a scrivere il tuo nome sul quaderno a quadretti

Usando el esquema de alfabeto que se encuentra aquí abajo, intenta escribir tu nombre en el cuaderno cuadriculado.

استعمل الحروف الأبجدية الموجودة في الأسفل ، واكتب اسمك على الدفتنر

用下面的字母表把你的名字试着写在方格本上。

Perdor skemen e alfabetit qe gjen ketu poshte dhe provo te shkruash emrin tend mbi fletoren me kuti.



Le figure

PRIMO LIVELLO: ESERCIZI GRAFICI

CONSEGNA:

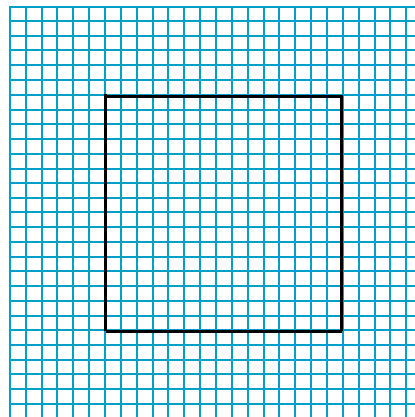

Copia nei quadretti le figure riportate a lato e rispondi alle domande.

Copia en los cuadritos las figuras de aquí al lado y responde a las preguntas.

انسخ داخل المربعات الصغيرة النماذج الموجودة جانباً ، وأجب على الأسئلة

在本子上把拿到手边的图照着画下来并回答问题。

Kopjo ne kuadretet figurat qe jan aty dhe pergjigju pyetjeve.



El cuadrado es una figura con los 4 lados iguales. El lado de este cuadrado es de 15 cuadritos. Contando los cuadritos de los 4 lados obtendrás el perímetro. Contando los cuadritos que contiene el cuadrado encontrarás el área. ¿Cuanto mide el área? ¿Y el perímetro?

SPAGNOLO

المربع هو شكل له أربع أضلاع متساوية مربعات صغيرة 15 أضلاع هذا المربع يتكون من عد المربعات الصغيرة لجميع الأضلاع حتى تحصل على المحيط ، عد المربعات الصغيرة داخل المربع حتى تجد المساحة . ما محيط المربع وما مساحته ؟؟

ARABO

正方形是一个四边相等的图形。这个正方形的一条边是15格。数一数四条边的格数，你就得到了周长。数一数正方形里边的格数你就得到了面积。面积是多少？，周长呢？

CINESE

Katrori eshte nje figur me te 4 brinjet njesot. Brinja e ketij katrori eshte e perbere nga 15 kuti. Numero kutit e çdo brinje dhe ke ne kete menyre perimetrin. Numero kutit brenda katrorit dhe ke gjetur siperfaqen. Sa eshte siperfaqja? E perimetri?

ALBANESE

quadrato

Il quadrato è una figura con tutti e 4 i lati uguali.

Il lato di questo quadrato è di 15 quadretti.

Conta i quadretti dei 4 lati e hai il **perimetro**.

Conta i quadretti dentro il quadrato e hai trovato l'**area**.

triangolo
triángulo

المثلث

三角形

trekëndësh

Trapezio
trapezio

رباعي منحرف

不规则四边形


trapez

Rettangolo
rectángulo

المستطيل

长方形

drejtëkëndësh



cerchio
círculo

الدائرة



rreth

pentagono
pentágono

خماسي

五边形

pesëkëndësh

rombo
rombo

معين

菱形

romb


CONSEGNA:

Conosci altre figure geometriche? Se sì prova a disegnarle e scrivi il loro nome.
¿Conoces otras figuras geométricas? Si es así, trata de dibujarlas y escribe sus nombres.

هل تعرف أشكال هندسية أخرى ??? اذا كانت الأجابة نعم ، ارسمها وأكتب اسمها

你还知道其它的几何图形吗？如果知道试着把它们画出来并写上名称。

Njeh figura te tjera gjeometrike? Ne qofte se po provon ti vizatosh dhe te shkruash emrin e tyre.



MATERIALE LIBERAMENTE FOTOCOPIABILE

Le forme

PRIMO LIVELLO: ESERCIZI GRAFICI

CONSEGNA:

Colora in blu i poligomi di 4 lati, in rosso i poligoni che hanno più di quattro lati e in verde i poligoni che hanno meno di quattro lati.

Pinta de azul los polígonos de cuatro lados, de rojo los que tienen más de cuatro lados y de verde los que tienen menos de cuatro lados.

لون بالأزرق الأشكال الرباعية الأضلاع ، وبالأحمر الأشكال المكونة من أكثر من أربع أضلاع ، وبالأخضر الأشكال الثلاثية الأضلاع .

给四边形的涂上蓝色，多于四边的涂红色少于四边的涂绿色。

Ngjyros me ngjyrën blu të katër brinjët e shumëkëndëshit në të 4 anët, me të kuqe shumëkëndëshat që kanë më shumë se 4 brinjë dhe me jeshile shumëkëndëshat që kanë më pak se 4 anë.

